

St. Pere
de Casserres
un viatge en el temps

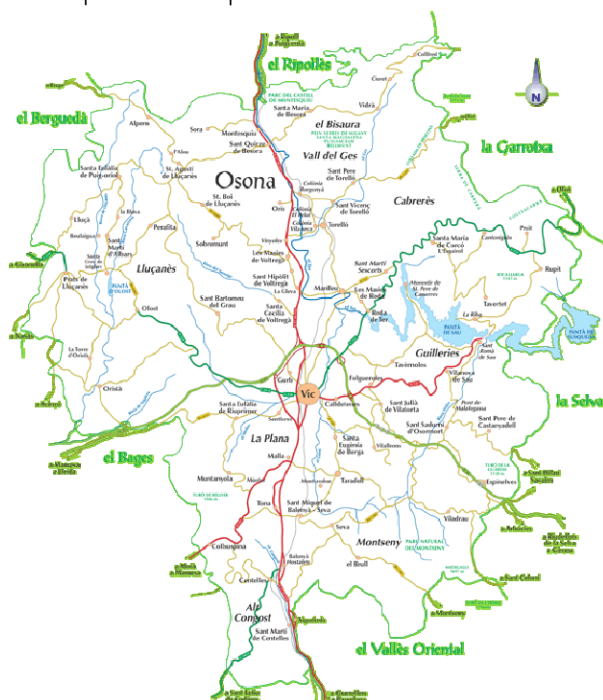
Dossier Primària

ACTIVITATS PRÈVIES A LA VISITA

- 🌀 *Vídeo introducció: El monestir de Sant Pere de Casserres a vista d'ocell.*
- 🌀 *Observa aquest mapa de les comarques catalanes i pinta de color verd la comarca d'Osona.*



- 🌀 *El monestir de Sant Pere de Casserres es troba dins el terme de les Masies de Roda, a la comarca d'Osona, on el riu Ter dibuixa bellíssims meandres que retallen les muntanyes. Busca la seva ubicació en aquest mapa comarcal, encercla el nom i dibuixa un símbol que el representi.*



- ⊙ Observa atentament aquest mapa que mostra l'entorn proper al monestir. Interpreta'l i fes-ne la llegenda corresponent.



- ⊙ Acaba de situar-hi els punts cardinals.
- ⊙ En el mapa anterior veuràs que figuren unes línies discontinües de colors groc i vermell. Diques què creus que indiquen.

Investiga'n el nom de cadascun.

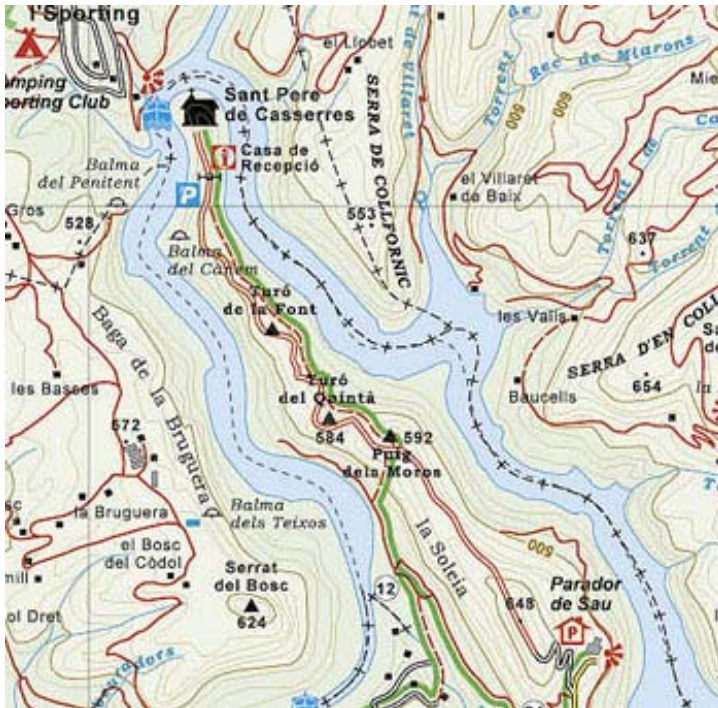


- ⊙ Observa el mapa que trobaràs en aquest enllaç i mira detingudament la situació geogràfica on es troba el monestir.
<https://maps.google.es/maps?ie=UTF-8&q=sant+pere+de+casserres&fb=1&gl=es&hq=monestir+de+casserres&cid=16474247113683141909&ei=dyUzU864JlemhAeAsiDwDA&sqi=2&ved=0CJYBEPwS>

ELS ELEMENTS QUE INTEGREN EL PAISATGE PROPER AL MONESTIR :

1. EL RELLEU

- 🌀 Observa aquest mapa i després de llegir les corbes de nivell, digues a quina altitud es troben aquests llocs que hi ha en el camí que porta al monestir:



Inici del sender : m.
Puig dels Moros :
Turó del Quintà :
Turó de la Font :
St. Pere de Casserres :

- 🌀 Quin desnivell, en metres, hi ha des de l'inici del sender al monestir?

- 🌀 Representa les altituds anteriors en una gràfica.

- 🌀 Busca a quina altitud es troba la teva escola i compara-la amb la del monestir.

🌀 El mapa observat abans et mostra també altres elements de relleu que es troben a banda i banda de la península on hi ha el monestir.

Al cantó dret veuràs la Serra d'en amb una alçada de metres. A continuació i amb una alçada de 553 metres hi ha una altra serra, la Serra de
Enfront trobem i al cantó esquerre, situat paral·lelament al Parador de Sau hi ha el Serrat del que es troba ametres d'alçada.

🌀 Busca informació d'altres elements de relleu que hi ha i acompanya-la amb la seva imatge :

Balma

Cavitat no gaire profunda en una paret de roca o un vessant rocallós on penetra la claror.



Meandre

Península

Cingle

Collet

Carena

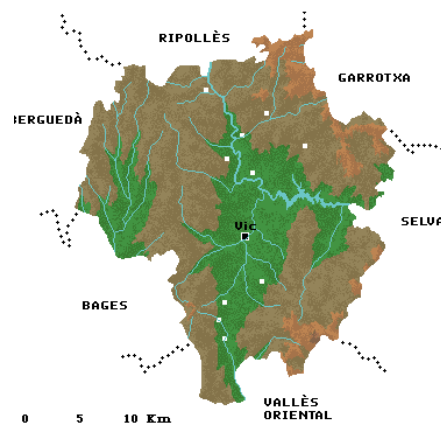
Baga

🌀 Recull el vocabulari sobre relleu treballat i fes diverses entrades a l'Eduwiki. http://www.eduwiki.cat/index.php?title=P%C3%A0gina_principal



2. EL RIU TER


- 📍 Busca informació sobre el riu Ter.
- 📍 Situa'l en aquest mapa de la comarca



3. L'EMBASSAMENT DE SAU

- 📍 L'embassament de Sau es va construir l'any 1962 per recollir les aigües del Ter, prevenir possibles aiguats i produir electricitat. Situa'l també en el mapa comarcal.

Situa en aquesta fotografia els següents elements de relleu que ja coneixes: meandre, península, riu Ter, cinglera, collet i embassament de Sau.



🌀 A partir del treball d'observació que has fet fins ara, completa aquest text que et servirà per introduir el tema. Pots il·lustrar-lo amb una imatge representativa.

"A la comarca d'O..... , dins el terme de les

de trobem el monestir de

Està situat en un dels meandres que forma el riu

en una p.....

ESTUDI CLIMÀTIC DE LA ZONA

- ☉ Quan prepareu la sortida, poseu-vos en contacte amb el guia del monestir i demaneu-li que us envii, per correu electrònic, les dades climàtiques : temperatures (màxima i mínima) i pluges enregistrades durant aquella setmana.
- ☉ Recolliu, al mateix temps, les dades climàtiques del lloc on es troba la vostra escola.
- ☉ Ompliu la següent graella :

| DIES | TMàxima | | TMinima | | TMitjana | | Pluges | |
|------|-----------|--------|-----------|--------|-----------|--------|-----------|--------|
| | Casserres | Escola | Casserres | Escola | Casserres | Escola | Casserres | Escola |
| | | | | | | | | |
| | | | | | | | | |
| | | | | | | | | |
| | | | | | | | | |
| | | | | | | | | |
| | | | | | | | | |
| | | | | | | | | |

- ☉ Feu un **climograma** que mostri les dades climàtiques de Casserres i un altre les del lloc on viviu.

- ☉ Observeu les gràfiques fetes i interpreteu-les conjuntament.